

3 もんだいに あわせて、テープ図に
あらわしましょう。

また、式を ^か書いて、答えを もとめましょう。

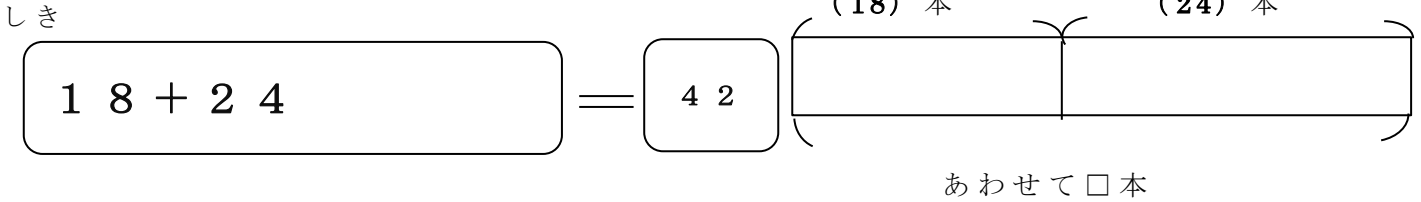
テープ図

() に数字をかこう。

- ① 赤い花が 18本 あります。
白い花が 24本 あります。
あわせて 何本 あるでしょうか。

赤い花 白い花

(18) 本 (24) 本



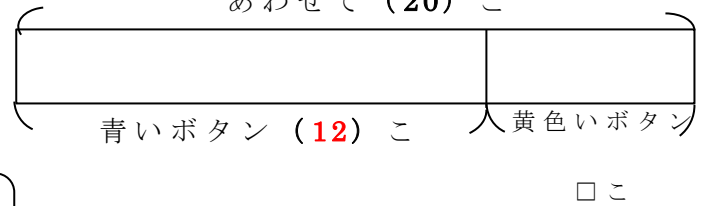
こたえ 42 本

テープ図

() に数字を書こう。

- ② 青い ボタンと 黄色い ボタンが あわせて 20こ
あります。
この うち 12こが 青い ボタンです。
黄色い ボタンは 何こでしょうか。

あわせて (20) こ



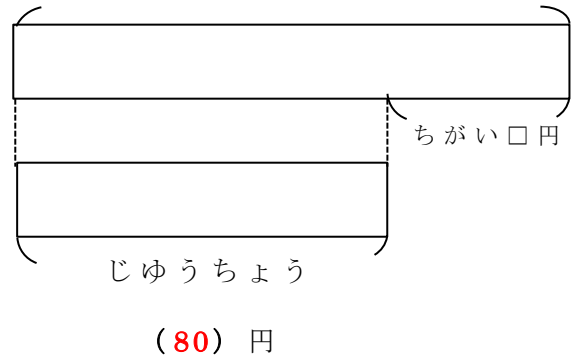
こたえ 8 こ

テープ図

() に数字を書こう。

- ③ ^{さんすう}算数の ノートは 110円です。
じゅうちょうは 80円です。
ちがいは 何円でしょうか。

算数のノート (110) 円



こたえ 30 円