

解答

学習クイズ


学校名() 小学校) 氏名()

①ミラーハウス



かがみ かくど ど とき
鏡の角度を40度にした時、
宇宙飛行士の姿は鏡に
いくつ映るでしょう。
() 6個
(○) 8個
() 10個

②三球儀



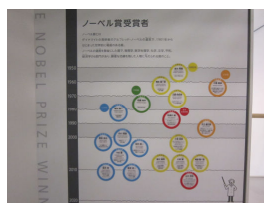
さんきゅうぎ
ちきゅう まわ まわ ほし
地球の周りを回っている星は
なに何でしょう。
(○) 月
() 太陽
() 水星

③滋賀の大地



しが だいち
しが しゅうへん やまやま
滋賀の周辺の山々には、
どんな岩石が多いでしょう。
(○) せつかいがん
() 水晶
() さがん

④日本人ノーベル賞




にほんじん しょう
にほん はじ しょう かがく
日本で初めてノーベル化学
賞を受賞した日本人は
だれ
誰でしょう。
(○) ふくい けんいち
() たなか こういち
() やまなか しんや

⑤宇宙体重計




うちゅうたいじゆうけい
たいじゆう
体重が一番軽くなる
ほし
星はどれでしょう。
() もくせい
() どせい
(○) つき

⑥琵琶湖の代表的な魚




びわこ だいひょうてき さかな
なにか さかな
ニゴロブナは何科の魚
でしょう。
() ドジョウ科
(○) コイ科
() ナマズ科

⑦琵琶湖のプランクトン



プランクトンをスケッチしましょう。

⑧てこの実験



おもりを持ち上げてみま
しょう。どれが一番重く感じ
ましたか。
() 1番
() 2番
(○) 3番