

大津市科学館

学習クイズ

学校名() 小学校) 氏名()


①ミラーハウス



かがみ かくど どとき
鏡の角度を40度にした時、
宇宙飛行士のすがた かがみに
いくつ映るでしょう。

- () 6個
- () 8個
- () 10個

②三球儀



さんきゅうぎ
ちきゅう まわ まわ ほし
地球の周りを回っている星は
なに
何でしょう。

- () 月
- () 太陽
- () 水星

③滋賀の大地



しが だいち
しが しゅうへん やまやま
滋賀の周辺の山々には、
どんながんせき おお
どんな岩石が多いでしょう。

- () せっかいがん
石灰岩
- () すいしょう
水晶
- () さがん
砂岩

④日本人ノーベル賞



にほんじん しょう
にほん はじ しょう かがく
日本で初めてノーベル化学
しょう じゅしょう にほんじん
賞を受賞した日本人は
だれ
誰でしょう。

- () ふくい けんいち
福井 謙一
- () たなか こういち
田中 耕一
- () やまなか しん や
山中 伸弥


⑤宇宙体重計



うちゅうたいじゆうけい
たいじゆう
体重が一番軽くなる
ほし
星はどれでしょう。

- () もくせい
木星
- () どせい
土星
- () つき
月


⑥琵琶湖の代表的な魚



びわこ だいひょうてき さかな
にゴロブナは何科の魚
でしょう。


- () ドジョウ科
- () コイ科
- () ナマズ科

⑦琵琶湖のプランクトン



プランクトンをスケッチしましょう。

⑧てこの実験



おもりを持ち上げてみま
しょう。どれがいちばんおも
かんじ
ましたか。

- () 1番
- () 2番
- () 3番